

くりあがりのあるたしざん(1の2)

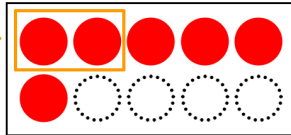
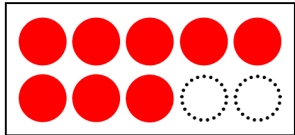
たしざんをしましょう。

①から⑤のじゅんに かんがえて みましょう。

$$8 + 6 = \square$$

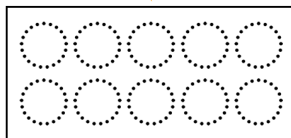

①8は あと2で10です。

②8に 2をあげよう。



③10ができた。

④のこりのかずの
○をぬってみよう。



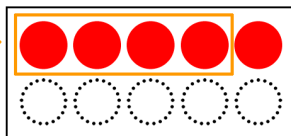
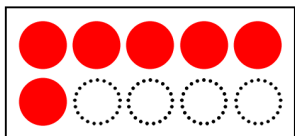
$$\square + \square = \square$$

⑤□にすうじをかこう。

$$6 + 5 = \square$$

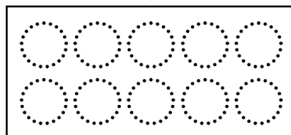

①6は あと4で10です。

②6に 4をあげよう。



③10ができた。

④のこりのかずの
○をぬってみよう。



$$\square + \square = \square$$

⑤□にすうじをかこう。