

# くりあがりのあるたしざん(1の3)

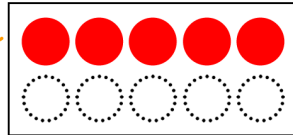
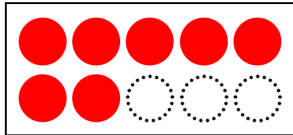
たしざんをしましょう。

①から⑤のじゆんにかんがえてみましょう。

$$7 + 5 = \square$$

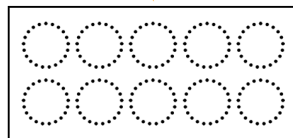

①7はあと( )で10。

②7に( )をあげよう。



③10ができた。

④のこりのかずの○をぬってみよう。



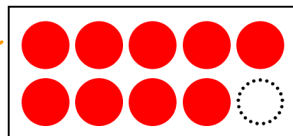
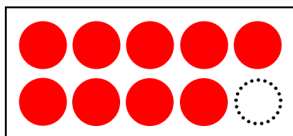
$$\square + \square = \square$$

⑤□にすうじをかこう。

$$9 + 9 = \square$$



①9はあと( )で10。

②9に( )をあげよう。



③10ができた。

④のこりのかずの○をぬってみよう。



$$\square + \square = \square$$

⑤□にすうじをかこう。