

くりあがりのあるたしざん(1の4)

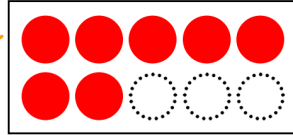
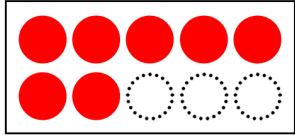
たしざんをしましょう。

①から⑤のじゅんに かんがえて みましょう。

$$7 + 7 = \square$$

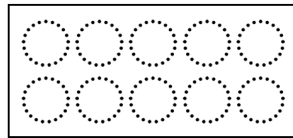

①7は あと()で10。

②7に()をあげよう。



③10ができた。

④のこりのかずの
○をぬってみよう。



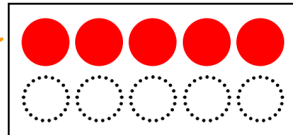
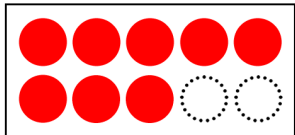
$$\square + \square = \square$$

⑤□にすうじをかこう。

$$8 + 5 = \square$$

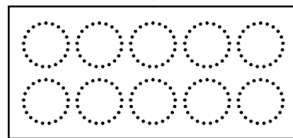

①8は あと()で10。

②8に()をあげよう。



③10ができた。

④のこりのかずの
○をぬってみよう。



$$\square + \square = \square$$

⑤□にすうじをかこう。