

くりあがりのあるたしざん(1の1)

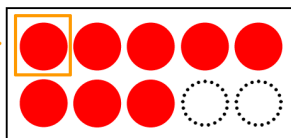
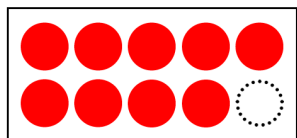
たしざんをしましょう。

①から⑤のじゅんに かんがえて みましょう。

$$9 + 8 = \square$$

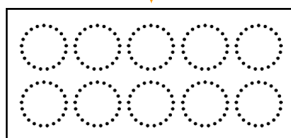

①9は あと1で10です。

②9に 1をあげよう。



③10ができた。

④のこりのかずの
○をぬってみよう。



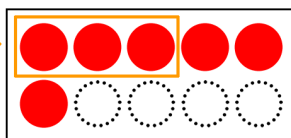
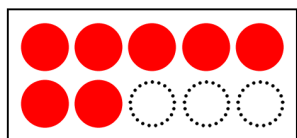
$$\square + \square = \square$$

⑤□にすうじをかこう。

$$7 + 6 = \square$$



①7は あと3で10です。

②7に 3をあげよう。



③10ができた。

④のこりのかずの
○をぬってみよう。



$$\square + \square = \square$$

⑤□にすうじをかこう。