

# くりあがりのあるたしざん(1の1)

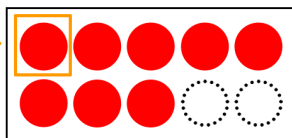
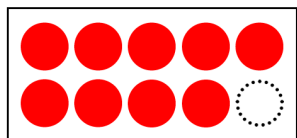
たしざんをしましょう。

①から⑤のじゅんに かんがえて みましょう。

$$9 + 8 = \square$$

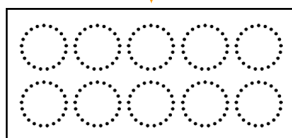

①9は あと1で10です。

②9に 1をあげよう。



③10ができた。

④のこりのかずの  
○をぬってみよう。



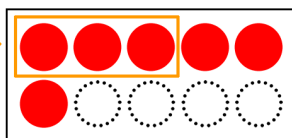
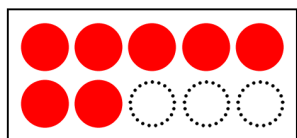
$$\square + \square = \square$$

⑤□にすうじをかこう。

$$7 + 6 = \square$$



①7は あと3で10です。

②7に 3をあげよう。



③10ができた。

④のこりのかずの  
○をぬってみよう。



$$\square + \square = \square$$

⑤□にすうじをかこう。

# くりあがりのあるたしざん(1の2)

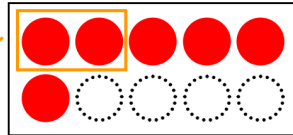
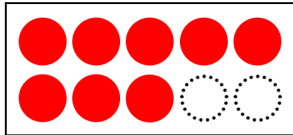
たしざんをしましょう。

①から⑤のじゅんに かんがえて みましょう。

$$8 + 6 = \square$$

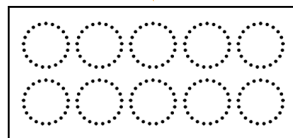

①8は あと2で10です。

②8に 2をあげよう。



③10ができた。

④のこりのかずの  
○をぬってみよう。



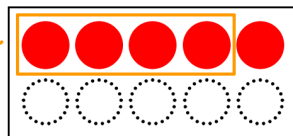
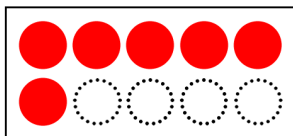
$$\square + \square = \square$$

⑤□にすうじをかこう。

$$6 + 5 = \square$$

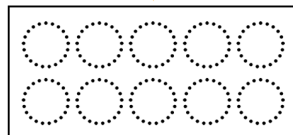

①6は あと4で10です。

②6に 4をあげよう。



③10ができた。

④のこりのかずの  
○をぬってみよう。



$$\square + \square = \square$$

⑤□にすうじをかこう。

# くりあがりのあるたしざん(1の3)

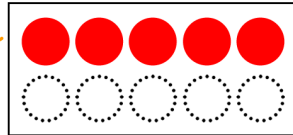
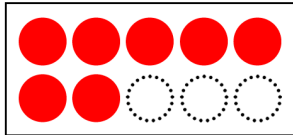
たしざんをしましょう。

①から⑤のじゆんにかんがえてみましょう。

$$7 + 5 = \square$$

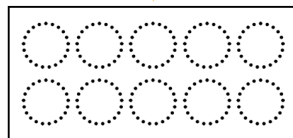

①7はあと( )で10。

②7に( )をあげよう。



③10ができた。

④のこりのかずの○をぬってみよう。



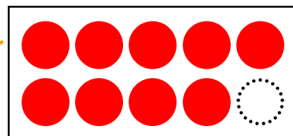
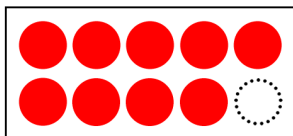
$$\square + \square = \square$$

⑤□にすうじをかこう。

$$9 + 9 = \square$$



①9はあと( )で10。

②9に( )をあげよう。



③10ができた。

④のこりのかずの○をぬってみよう。



$$\square + \square = \square$$

⑤□にすうじをかこう。

# くりあがりのあるたしざん(1の4)

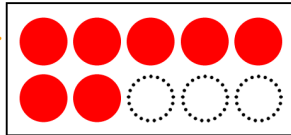
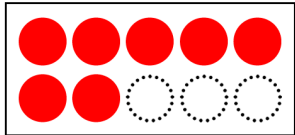
たしざんをしましょう。

①から⑤のじゅんに かんがえて みましょう。

$$7 + 7 = \square$$

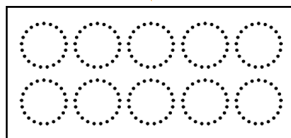

①7は あと( )で10。

②7に( )をあげよう。



③10ができた。

④のこりのかずの  
○をぬってみよう。



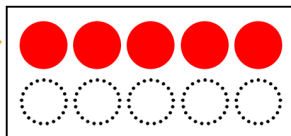
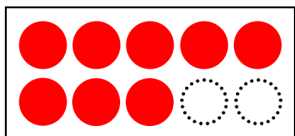
$$\square + \square = \square$$

⑤□にすうじをかこう。

$$8 + 5 = \square$$



①8は あと( )で10。

②8に( )をあげよう。



③10ができた。

④のこりのかずの  
○をぬってみよう。



$$\square + \square = \square$$

⑤□にすうじをかこう。

# くりあがりのあるたしざん(1の5)

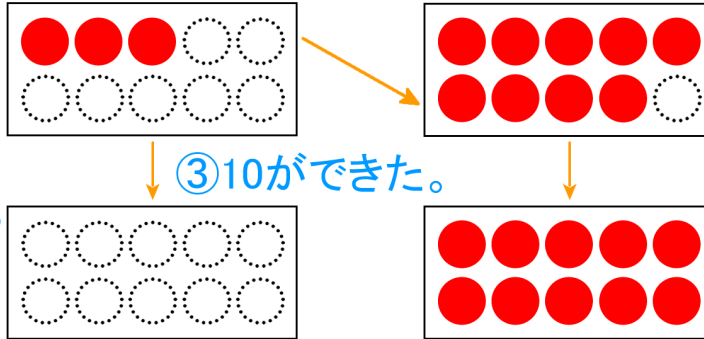
たしざんをしましょう。

①から⑤のじゅんに かんがえて みましょう。

$$3 + 9 = \square$$

②9に( )をあげよう。 ①9は あと( )で10。

④のこりの  
かずの○を  
ぬってみよう。



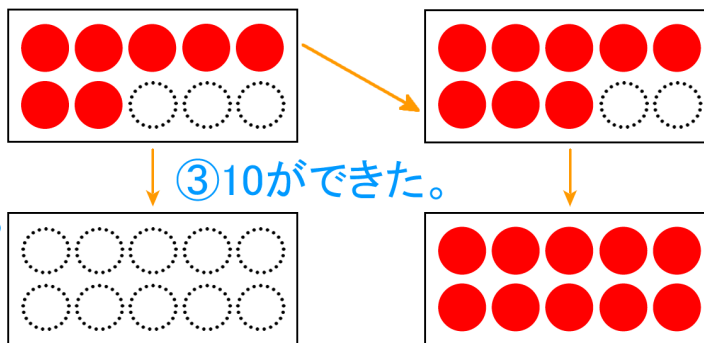
$$\square + \square = \square$$

⑤□にすうじをかこう。

$$7 + 8 = \square$$

②8に( )をあげよう。 ①8は あと( )で10。

④のこりの  
かずの○を  
ぬってみよう。



$$\square + \square = \square$$

⑤□にすうじをかこう。