


ちがいはいくつ(1)

みかんとりんごの かずのちがいはいくつですか。
みかんとりんごを せんでつなぎましょう。
また、□に すうじを かきましょう。



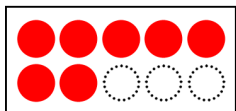
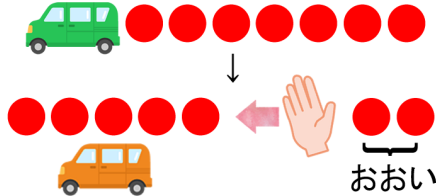
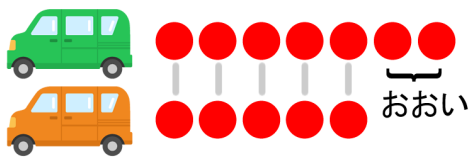

これを **しき**で かくと

$$6 \overset{\text{ひく}}{-} 3 = \square$$

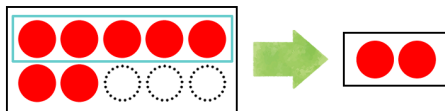
ちがいは \square こ

よみかた: 6ひく3は□

は より、なんだい おおいですか。
□に すうじを かきましょう。



と \square の ちがいは \square



しき

$$\square \overset{\text{ひく}}{-} \square = \square$$

こたえ

\square だい