




のこりはいくつ(1)

のこりはなんわになりますか。□にすうじをかきましょう。

この箱: ことりが3わいます。


この箱: 2わとびたちました。


この箱: のこりは □ わ


これをしきでかくと

$$3 \overset{\text{ひく}}{-} 2 = \square$$

よみかた: 3ひく2は□

のこりは □ わ

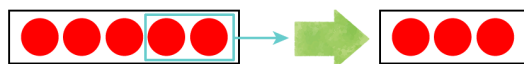
のこりはなんぼんになりますか。□にすうじをかきましょう。

この箱: はじめのかず 5ほん


この箱: たべたかず 2ほん


この箱: のこりは □ ほん


●●●●● から ●● をとると、のこりは ●●●



しき

$$\square \overset{\text{ひく}}{-} \square = \square$$

こたえ

□ ほん